

ANÁLISIS VECTORIAL

CAP 2: VECTORES EN 2D

MÉTODOS ANALÍTICOS PARTE 2

Por Félix Aucallanchi Velásquez

03.- Si se cumple que: $|\vec{A} + \vec{B}| = 2|\vec{A} - \vec{B}|$ y además: $2|\vec{A}| = |\vec{B}|$, calcular el coseno del ángulo formado por los vectores \vec{A} y \vec{B} .

- A) $-\frac{3}{8}$ B) $\frac{3}{5}$ C) $\frac{2}{5}$ D) $\frac{3}{4}$ E) $\frac{1}{3}$

Hacemos: $A = k, B = 2k$

$$|\vec{A} + \vec{B}| = 2|\vec{A} - \vec{B}| \rightarrow R = 2D \dots (*)$$

$$i) R = \sqrt{A^2 + B^2 + 2 A \cdot B \cdot \cos \theta}$$

$$R = \sqrt{k^2 + (2k)^2 + 2 k \cdot 2k \cdot \cos \theta} = \sqrt{5k^2 + 4 k^2 \cos \theta}$$

$$ii) D = \sqrt{A^2 + B^2 - 2 A \cdot B \cdot \cos \theta}$$

$$D = \sqrt{k^2 + (2k)^2 - 2 \cdot k \cdot 2k \cdot \cos \theta} = \sqrt{5k^2 - 4k^2 \cos \theta}$$

Reemplazando en (*):

$$\sqrt{5k^2 + 4 k^2 \cos \theta} = 2\sqrt{5k^2 - 4 k^2 \cos \theta}$$

Elevando al cuadrado:

$$\cancel{5k^2} + \cancel{4 k^2} \cos \theta = 4(\cancel{5k^2} - \cancel{4 k^2} \cos \theta)$$

$$5 + 4 \cos \theta = 20 - 16 \cos \theta$$

$$20 \cos \theta = 15$$

$$\therefore \cos \theta = \frac{3}{4}$$

Resp: D

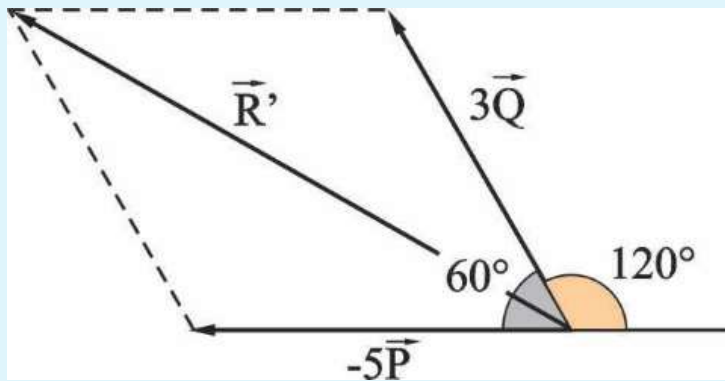
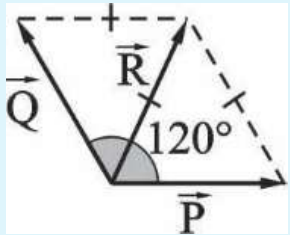
04.- Se tiene dos vectores de igual módulo «A» y su resultante tiene el mismo módulo que ellos. Si a un vector se le multiplica por tres y al otro por menos cinco, ¿cuál es el módulo de su resultante? Considere: $A = 2$.

- A) 12 B) 10 C) 14 D) 8 E) 9

Sean P y Q los vectores y R su resultante.
Por condición:

$$|\vec{P}| = |\vec{Q}| = |\vec{R}|$$

entonces los vectores P y Q forman 120° .



$$R' = \sqrt{(3Q)^2 + (5P)^2 + 2(3Q)(5P)\cos 60^\circ}$$

$$R' = \sqrt{(3A)^2 + (5A)^2 + 2(3A)(5A) \cdot \frac{1}{2}}$$

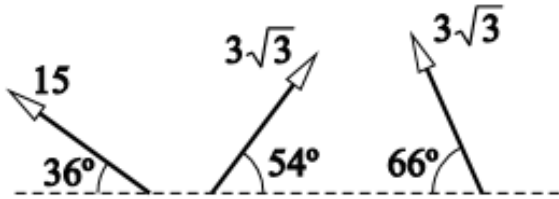
$$R' = \sqrt{9A^2 + 25A^2 + 15A^2}$$

$$R' = \sqrt{49A^2} \rightarrow R' = 7A \rightarrow R' = 7(2)$$

$$\therefore R' = 14$$

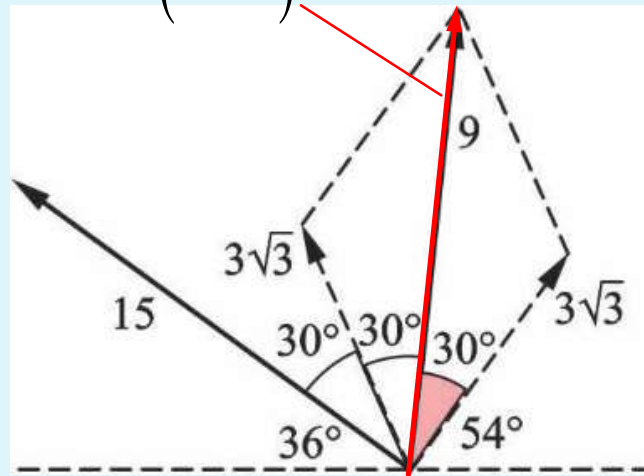
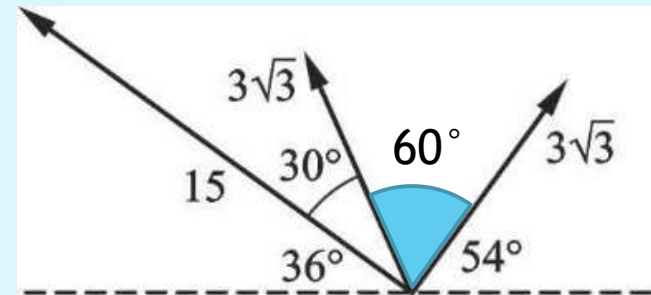
Resp: C

06.- Determinar el módulo de la resultante del siguiente conjunto de vectores.



- A) 21 B) 24 C) 14 D) 29 E) 30

$$a\sqrt{3} = (3\sqrt{3})\sqrt{3}$$



$$R = \sqrt{15^2 + 9^2 + 2 \cdot 15 \cdot 9 \cos 60^\circ}$$

$$R = \sqrt{225 + 81 + \cancel{2 \cdot 135} \cdot \cancel{\frac{1}{2}}}$$

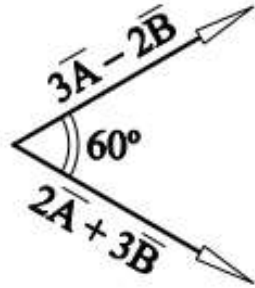
$$R = \sqrt{441}$$

$$\therefore R = 21$$

Resp: A

11.- Si: $\left| \vec{A} - \frac{2}{3} \vec{B} \right| = 10$ y $|2\vec{A} + 3\vec{B}| = 25$, se pide evaluar: $|7\vec{A} + 4\vec{B}|$.

- A) 50
- B) 60
- C) 70
- D) 80
- E) 90



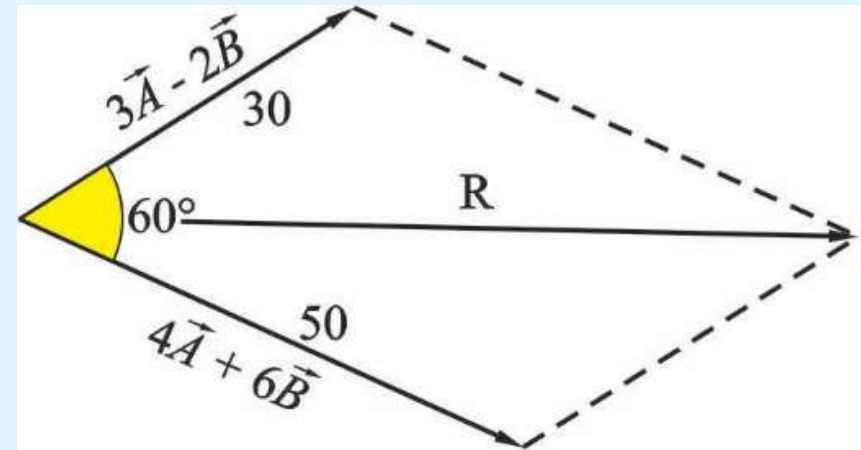
$$\left| \vec{A} - \frac{2}{3} \vec{B} \right| = 10$$

$$3 \cdot \left| \vec{A} - \frac{2}{3} \vec{B} \right| = 3 \cdot 10 \rightarrow |3\vec{A} - 2\vec{B}| = 30$$

$$|2\vec{A} + 3\vec{B}| = 25$$

$$2 \cdot |2\vec{A} + 3\vec{B}| = 2 \cdot 25 \quad |4\vec{A} + 6\vec{B}| = 50$$

$$(3\vec{A} - 2\vec{B}) + (4\vec{A} + 6\vec{B}) = (7\vec{A} + 4\vec{B})$$



$$|\vec{R}| = \sqrt{30^2 + 50^2 + 2 \cdot 30 \cdot 50 \cdot \cos 60^\circ}$$

$$|\vec{R}| = \sqrt{900 + 2500 + 2 \cdot 1500 \cdot \frac{1}{2}}$$

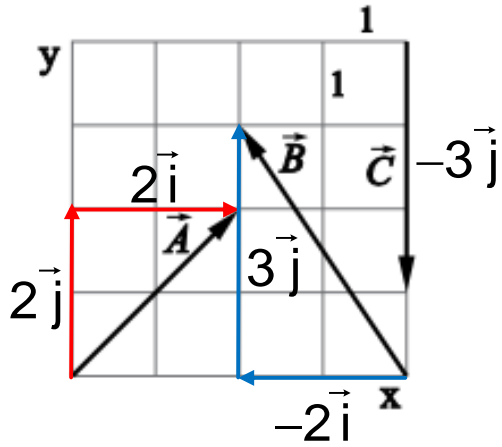
$$|\vec{R}| = \sqrt{4900}$$

$$\therefore |\vec{R}| = 70$$

Resp: C

08.- Dados los vectores de la figura, se pide determinar: $\vec{R} = \vec{A} + 2\vec{B} + \vec{C}$.

- A) $3\vec{i} + 4\vec{j}$
- B) $4\vec{i} - 3\vec{j}$
- C) $2\vec{i} + 3\vec{j}$
- D) $-2\vec{i} + 5\vec{j}$
- E) $-3\vec{i} + 4\vec{j}$



$$\vec{A} = 2\vec{i} + 2\vec{j}; \vec{B} = -2\vec{i} + 3\vec{j}; \vec{C} = -3\vec{j}$$

$$\vec{R} = \vec{A} + 2\vec{B} + \vec{C}$$

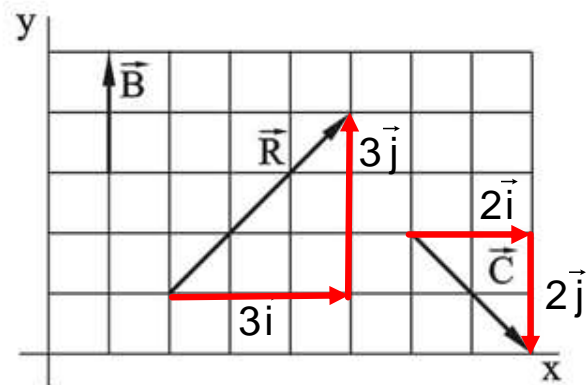
$$\vec{R} = (2\vec{i} + 2\vec{j}) + 2(-2\vec{i} + 3\vec{j}) + (-3\vec{j})$$

$$\vec{R} = 2\vec{i} + 2\vec{j} - 4\vec{i} + 6\vec{j} - 3\vec{j}$$

$$\therefore \vec{R} = -2\vec{i} + 5\vec{j}$$

Resp: D

07. En el gráfico mostrado las cuadrículas miden la unidad.



Se sabe que: $\vec{R} = \vec{A} + \vec{B} + \vec{C}$, y se pide determinar:

a) La expresión vectorial cartesiana de \vec{A}

b) El ángulo direccional de \vec{A}

A) $\vec{A} = -3\vec{i} + 3\vec{j}$; $\theta = \tan^{-1}(-1)$

B) $\vec{A} = 1\vec{i} + 3\vec{j}$; $\theta = \tan^{-1}(3)$

C) $\vec{A} = -1\vec{i} + 2\vec{j}$; $\theta = \tan^{-1}(-2)$

D) $\vec{A} = 2\vec{i} + 3\vec{j}$; $\theta = \tan^{-1}(3/2)$

E) $\vec{A} = 1\vec{i} + 3\vec{j}$; $\theta = \tan^{-1}(1/3)$

Datos: $\vec{B} = 0\vec{i} + 2\vec{j}$; $\vec{C} = 2\vec{i} - 2\vec{j}$; $\vec{R} = 3\vec{i} + 3\vec{j}$

a) $\vec{R} = \sum \vec{V} \rightarrow \vec{R} = \vec{A} + \vec{B} + \vec{C}$

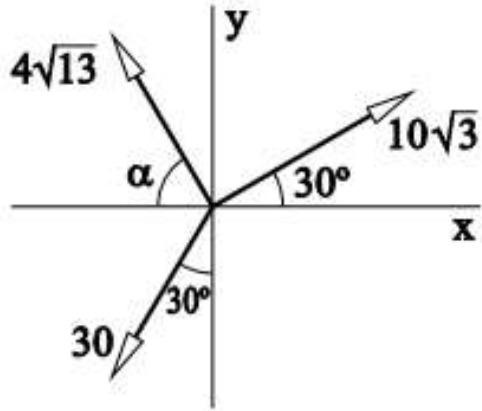
$3\vec{i} + 3\vec{j} = \vec{A} + \cancel{2\vec{j}} + 2\vec{i} - \cancel{2\vec{j}} \rightarrow \therefore \vec{A} = 1\vec{i} + 3\vec{j}$

b) $\theta = \tan^{-1}\left(\frac{A_y}{A_x}\right) \rightarrow \theta = \tan^{-1}\left(\frac{3}{1}\right)$

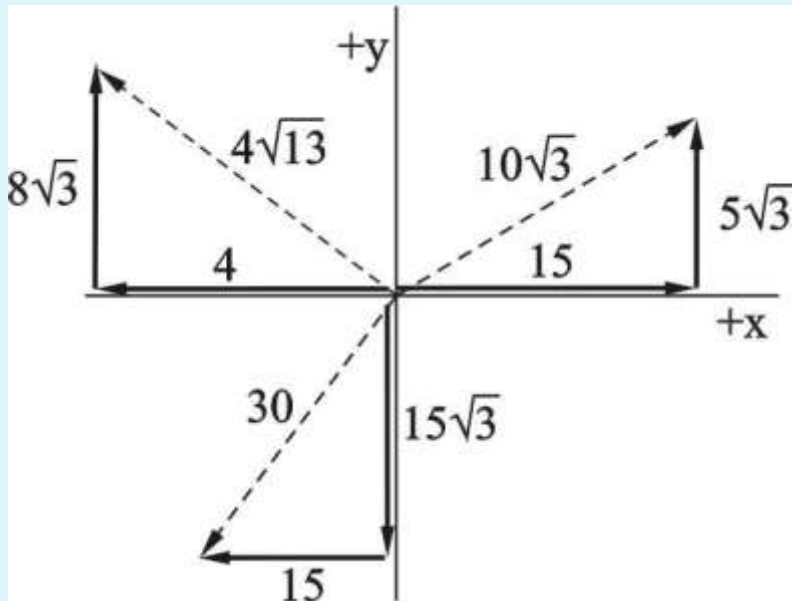
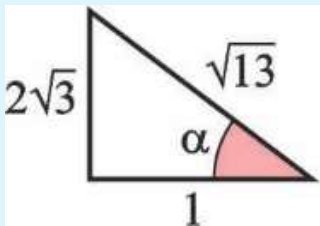
$\therefore \theta = \tan^{-1}(3)$ **Resp: B**

14.- ¿Qué ángulo forma la resultante con el eje de las «x»? $\tan \alpha = 2\sqrt{3}$.

- A) $\tan^{-1}(\sqrt{3})$
- B) $\tan^{-1}(\sqrt{2})$
- C) $\tan^{-1}(\sqrt{6})$
- D) $\tan^{-1}\left(\frac{\sqrt{3}}{2}\right)$
- E) 25°



$$\tan \alpha = \frac{2\sqrt{3}}{1}$$



$$R_x = \sum V_x = 15 - 15 - 4 \rightarrow R_x = -4$$

$$R_y = \sum V_y = 8\sqrt{3} - 15\sqrt{3} + 5\sqrt{3} \rightarrow R_y = -2\sqrt{3}$$

Ahora determinamos el ángulo direccional:

$$\theta_R = \tan^{-1}\left(\frac{R_y}{R_x}\right) \rightarrow \theta_R = \tan^{-1}\left(\frac{-2\sqrt{3}}{-4}\right)$$

$$\therefore \theta_R = \tan^{-1}\left(\frac{\sqrt{3}}{2}\right)$$

Resp: D

Observación:

$$\tan^{-1}\left(\frac{\sqrt{3}}{2}\right) \approx 40,9^\circ$$

$$\therefore \theta_R \approx 220,9^\circ$$

